

Всероссийская олимпиада школьников
по Основам безопасности и защиты Родины
2024–2025 учебный год
Школьный этап

Задания для участников 5–6 классов
Общее время выполнения заданий – 45 минут.
Максимальный балл за выполнение всех заданий – 100 баллов.

ШИФР 085-3

Дорогие ребята!

При выполнении заданий Вам предстоит выполнить определённую работу, которую лучше организовать следующим образом.

- внимательно прочитайте задание;
 - если Вы отвечаете на теоретический вопрос или решаете ситуационную задачу, обдумайте и сформулируйте конкретный ответ (ответ должен быть кратким, его содержание требуется вписать в отведённое поле, писать следует чётко и разборчиво);
 - при ответе на тесты определите верный ответ и обведите кружком, букву, соответствующую выбранному Вами ответу.
- За каждый правильный ответ Вы можете получить определённое членами жюри количество баллов, не выше указанной максимальной оценки.
Сумма набранных баллов за все решённые вопросы – итог Вашей работы.
Задания считаются выполненными, если Вы вовремя сдали их членам жюри.
Желаем удачи!

Определите один правильный ответ.

1. Какой вид транспорта представляет наибольшую опасность?

- A) Автомобильный
- B) Железнодорожный
- B) Воздушный
- Г) Водный

2. Пешеход не успевший закончить переход проезжей части дороги до начала возобновления движения транспортных средств, должен:

- A) вернуться назад
- B) остановиться на осевой линии или островке безопасности, разделяющей транспортные потоки противоположных направлений
- B) закончить переход дороги
- Г) двигаться по осевой линии

3. В салоне автобуса (трамвая, троллейбуса) вы обнаружили забытый (оставленный) кем-то сверток. Как вы поступите?

- A) Развернете сверток, чтобы узнать, что там находится
- B) Поставите в известность водителя
- B) Возьмете сверток с собой, чтобы отнести в полицию
- Г) Ни чего не говоря, покинете автобус

4. Готовясь к походу, вам необходимо правильно подобрать одежду. Каким ниже перечисленным требованиям она должна соответствовать:

- A) одежда должна быть свободной, чистой и сухой, носиться в несколько слоев
- B) одежда должна быть из синтетических материалов

- B) одежда должна быть однотонного или камуфлированного материала, чистой и сухой
- Г) одежда должна быть модной

5. Если Вы заблудились в тайге, первым делом постарайтесь:

- A) прекратить движение и попытаться восстановить ориентировку с помощью компаса или пользуясь различными природными признаками
- B) найти убежище от холода, жары, дождя и ветра
- B) придумать способ оповестить о себе
- Г) рассчитать запасы пищи, воды и найти способы ее добычи

6. Что включает в себя автономное существование?

- A) Пребывание человека на значительном удалении от жилья
- B) Потеря ориентировки на местности
- B) Отставание от группы в походе
- Г) Всё перечисленное

7. Назовите международный сигнал бедствия:

- A) SOS
- B) DOS
- B) KOS
- Г) SOC

8. Определите смысловое значение данного знака, на водных объектах:



- A) «Купаться запрещено»
- B) «Входить в воду запрещено»
- B) «Опасно! Грязная вода»
- Г) «Купаться запрещено без сопровождения взрослых»

9. Подземные толчки и колебания земной поверхности, возникающие в результате внезапных смещений и разрывов в земной коре или верхней части мантии Земли и передающиеся на большие расстояния в виде упругих колебаний, являются

- A) землетрясением
- B) вулканическим землетрясением
- B) эпицентром землетрясения
- Г) обвалом

10. Где безопаснее находиться во время землетрясения?

- A) возле оконного проёма
- B) в широком коридоре
- B) в узком коридоре
- Г) в дверном проёме

11. Какой признак является общим для всех закрытых механических травм?

- A) деформация
- B) патологическая подвижность
- B) отёк
- Г) укорочение повреждённой части конечности

12. Пострадавший поранил руку. Кровь из раны вытекает равномерно, не пульсирует, тёмно-красного цвета. Какой вид кровотечения?

- A) венозное
- B) артериальное
- B) капиллярное
- Г) parenхиматозное

13. Выберите единый номер системы обеспечения вызова экстренных оперативных служб субъекта Российской Федерации.

- A) 101
- B) 111
- B) 112
- Г) 102

14. Опасными местами в любое время суток могут быть:

- A) подворотни, заброшенные дома, задние двory, пустыри, пустующие стройплощадки
- B) парикмахерские, магазины, банки, кафе
- B) отделение полиции, пожарная часть, почта

15. Безопасно ли тушить электрические приборы, находящиеся под напряжением?

- A) да, всегда
- B) да, если напряжение ниже 220 V
- B) нет
- Г) да, если напряжение ниже 230 V

16. Что запрещено тушить пенным огнетушителем?

- A) Бензин, дизельное топливо
- B) Лаки и краски
- B) Электропроводку
- Г) Торф

Определите несколько правильных ответов.

17. Какие из перечисленных требований безопасности позволят уберечься от клещевого энцефалита в лесу?

- A) залезать в норы и дупла руками, одетыми в перчатки
- B) заправлять длинные брюки в голенище сапог (в обувь)
- B) регулярно проводить само- и взаимоосмотры
- Г) избегать мест, где много опавших плодов
- Д) одевать головной убор
- Е) остерегаться густой травы и низкорослого кустарника

18. Какие из перечисленных требований пожарной безопасности следует соблюдать при выборе места для разведения костра?

- A) место разведения костра должно быть хорошо проветриваемым
- B) место разведения костра должно быть ровным
- B) место разведения костра должно находиться не далее чем в 10 метрах от водоёма
- Г) место разведения костра должно быть очищено от травы, листьев и т. п.
- Д) место разведения костра должно быть обложено поленями
- E) место разведения костра должно быть окопано.

19. Какие из перечисленных косвенных признаков указывают на то, что растение съедобно для человека?

- A) кора растения обглодана животными
- B) растение имеет плоды с яркой окраской
- B) растение имеет небольшую высоту
- Г) плоды растения поклёваны птицами
- Д) растение имеет засохшее основание
- Е) у основания растения множество косточек
- Ж) плоды растения обнаружены в гнёздах
- B) растение имеет приятный запах

20. Укажите направления, угол между которыми является азимутом.

- A) на юг
- B) на ориентир
- B) на север
- Г) на запад
- Д) на световой ориентир

21. Какие действия необходимо выполнить для оказания первой помощи при носовом кровотечении?

- A) наклонить голову вперёд
- B) запрокинуть голову назад
- B) повернуть голову набок
- Г) приложить холод к переносице
- Д) приложить тепло к переносице

22. Укажите правильные действия при захвате в заложники:

- A) Не отвечать на вопросы террористов.
- B) На все действия спрашивать разрешения.
- B) Незаметно занять другое, более удобное место.
- Г) Выполнять все требования преступников.
- Д) Не смотреть в глаза террористам.
- E) Терпеть оскорбления и унижения.

23. Каковы признаки отравления ядовитыми растениями, ягодами, грибами?





- A) Бледность, одышка.
- B) Боль в животе.
- B) Частый жидкий стул.
- Г) Потливость, стеснение в груди.
- Д) Тошнота, рвота.

Теоретические задания.




Задание 1. Укажите стрелками соответствие между изображением дорожного знака и его названием



Максимальное количество баллов – 10 баллов.

| | | |
|---|---|--|
|  |  | Запрещение движения на велосипеде  |
|---|---|--|

| | |
|--|---|
|  | Конеч велосипедной дорожки |
|  | Начало велосипедной дорожки |
|  | Пересечение с велосипедной дорожкой или велосипедной дорожкой |
|  | Пешеходная дорожка |

Задание 2. Укажите стрелками соответствие между изображением знаков пожарной безопасности и его названием. Максимальное количество баллов – 10 баллов.

| | |
|---|-------------------------------------|
|  | Направление к эвакуационному выходу |
|  | Пожарный кран |
|  | Огнетушитель |

| | |
|--|---------------------------------------|
|  | Пожарный гидрант |
|  | Звуковой оповещатель пожарной тревоги |

Задание 3.

Находясь в своей квартире, Вы обнаружили пожар на кухне (возгорание произошло от включенной электроплиты). Опишите безопасные действия в данных условиях.

Максимальное количество баллов – 20 баллов.

1. Оповестить соседей и по возможности позвонить в пожарную службу.
2. По возможности накрыть огонь.
3. Если огонь не удается потушить, закрыть дверь в direction комнаты и покинуть квартиру.
4. Сообщить соседям и соседям по лестничной площадке о пожаре.
5. Когда пожарные потушат пожар, указать причину возникновения пожара.

Задание 4.

Опишите правила поведения из четырех пунктов при обнаружении подозрительной вещи (предмета).

Максимальное количество баллов – 12 баллов.

1. Когда обнаружите подозрительную вещь не трогать ее.
2. Сообщить другим (соседям, водителю, пассажирам).
3. Позвонить в полицию и рассказать все, что вы знаете.
4. Ждать помощи.

100

105

65

65

675