

Всероссийская олимпиада школьников
по Основам безопасности и защиты Родины
2024–2025 учебный год
Школьный этап

Задания для участников 5–6 классов
Общее время выполнения заданий – 45 минут.
Максимальный балл за выполнение всех заданий – 100 баллов.

ШИФР 086-4

Дорогие ребята!

При выполнении заданий Вам предстоит выполнить определённую работу, которую лучше организовать следующим образом:

- внимательно прочитайте задание;
 - если Вы отвечаете на теоретический вопрос или решаете ситуационную задачу, обдумайте и сформулируйте конкретный ответ (ответ должен быть кратким, его содержание требуется вписать в отведённое поле, писать следует чётко и разборчиво);
 - при ответе на тесты определите верный ответ и обведите кружком, букву, соответствующую выбранному Вами ответу.
- За каждый правильный ответ Вы можете получить определённое членами жюри количество баллов, не выше указанной максимальной оценки.
Сумма набранных баллов за все решённые вопросы – итог Вашей работы.
Задания считаются выполненными, если Вы вовремя сдали их членам жюри.
Желаем удачи!

Определите один правильный ответ.

1. Какой вид транспорта представляет наибольшую опасность?

- А) Автомобильный
- Б) Железнодорожный
- В) Воздушный
- Г) Водный

2. Пешеход не успевший закончить переход проезжей части дороги до начала возобновления движения транспортных средств, должен:

- А) вернуться назад
- Б) остановиться на осевой линии или островке безопасности, разделяющей транспортные потоки противоположных направлений
- В) закончить переход дороги
- Г) двигаться по осевой линии

3. В салоне автобуса (трамвая, троллейбуса) вы обнаружили забытый (оставленный) кем-то сверток. Как вы поступите?

- А) Разверните сверток, чтобы узнать, что там находится
- Б) Поставьте в известность водителя
- В) Возьмете сверток с собой, чтобы отнести в полицию
- Г) Ни чего не говоря, покинете автобус

4. Готовясь к походу, вам необходимо правильно подобрать одежду. Каким ниже перечисленным требованиям она должна соответствовать:

- А) одежда должна быть свободной, чистой и сухой, носиться в несколько слоев
- Б) одежда должна быть из синтетических, материалов

- В) одежда должна быть однотонного или камуфлированного материала, чистой и сухой
- Г) одежда должна быть модной

5. Если Вы заблудились в тайге, первым делом постарайтесь:

- А) прекратить движение и попытаться восстановить ориентировку с помощью компаса или пользуясь различными природными признаками
- Б) найти убежище от холода, жары, дождя и ветра
- В) придумать способ оповестить о себе
- Г) рассчитать запасы пищи, воды и найти способы ее добычи

6. Что включает в себя автономное существование?

- А) Пребывание человека на значительном удалении от жилья
- Б) Потеря ориентировки на местности
- В) Отставание от группы в походе
- Г) Всё перечисленное

7. Назовите международный сигнал бедствия:

- А) SOS
- Б) DOS
- В) KOS
- Г) SOC

8. Определите смысловое значение данного знака, на водных объектах:



- А) «Купаться запрещено»
- Б) «Входить в воду запрещено»
- В) «Опасно! Грязная вода»
- Г) «Купаться запрещено без сопровождения взрослых»

9. Подземные толчки и колебания земной поверхности, возникающие в результате внезапных смещений и разрывов в земной коре или верхней части мантии Земли и передающиеся на большие расстояния в виде упругих колебаний, являются

- А) землетрясением
- Б) вулканическим землетрясением
- В) эпицентром землетрясения
- Г) обвалом

10. Где безопаснее находиться во время землетрясения?

- А) возле оконного проёма
- Б) в широком коридоре
- В) в узком коридоре
- Г) в дверном проёме

11. Какой признак является общим для всех закрытых механических травм?

- А) деформация
- Б) патологическая подвижность
- В) отёк
- Г) укорочение повреждённой части конечности

12. Пострадавший поранил руку. Кровь из раны вытекает равномерно, не пульсирует, тёмно-красного цвета. Какой вид кровотечения?

- А) венозное
- Б) артериальное
- В) капиллярное
- Г) паренхиматозное

13. Выберите единый номер системы обеспечения вызова экстренных оперативных служб субъекта Российской Федерации.

- А) 101
- Б) 911
- В) 112
- Г) 102

14. Опасными местами в любое время суток могут быть:

- А) подворотни, заброшенные дома, задние дворы, пустыри, пустующие стройплощадки
- Б) парикмахерские, магазины, банки, кафе
- В) отделение полиции, пожарная часть, почта

15. Безопасно ли тушить электрические приборы, находящиеся под напряжением?

- А) да, всегда
- Б) да, если напряжение ниже 220 В
- В) нет
- Г) да, если напряжение ниже 230 В

16. Что запрещено тушить пенным огнетушителем?

- А) Бензин, дизельное топливо
- Б) Лаки и краски
- В) Электропроводку
- Г) Торф

Определите несколько правильных ответов.

17. Какие из перечисленных требований безопасности позволят уберечься от клещевого энцефалита в лесу?

- А) залезать в норы и дупла руками, одетыми в перчатки
- Б) заправлять длинные брюки в голенище сапог (в обувь)
- В) регулярно проводить само- и взаимоосмотры
- Д) избегать мест, где много опавших плодов
- Д) одевать головной убор
- Е) остерегаться густой травы и низкорослого кустарника

18. Какие из перечисленных требований пожарной безопасности следует соблюдать при выборе места для разведения костра?

- А) место разведения костра должно быть хорошо проветриваемым
- Б) место разведения костра должно быть ровным
- В) место разведения костра должно находиться не далее чем в 10 метрах от водоёма
- Г) место разведения костра должно быть очищено от травы, листьев и т. п.
- Д) место разведения костра должно быть обложено поленьями
- Е) место разведения костра должно быть окопано.

19. Какие из перечисленных косвенных признаков указывают на то, что растение съедобно для человека?

- А) кора растения обглодана животными
- Б) растение имеет плоды с яркой окраской
- В) растение имеет небольшую высоту
- Г) плоды растения поклеваны птицами
- Д) растение имеет засохшее основание
- Е) у основания растения множество косточек
- Ж) плоды растения обнаружены в гнездах
- З) растение имеет приятный запах

20. Укажите направления, угол между которыми является азимутом.

- А) на юг
- Б) на ориентир
- В) на север
- Г) на запад
- Д) на световой ориентир

21. Какие действия необходимо выполнить для оказания первой помощи при носовом кровотечении?

- А) наклонить голову вперёд
- Б) запрокинуть голову назад
- В) повернуть голову набок
- Г) приложить холод к переносице
- Д) приложить тепло к переносице

22. Укажите правильные действия при захвате в заложники:

- А) Не отвечать на вопросы террористов.
- Б) На все действия спрашивать разрешения.
- В) Незаметно занять другое, более удобное место.
- Г) Выполнять все требования преступников.
- Д) Не смотреть в глаза террористам.
- Е) Терпеть оскорбления и унижения.

23. Каковы признаки отравления ядовитыми растениями, ягодами, грибами?





- А) Бледность, одышка.
- Б) Боль в животе.
- В) Частый жидкий стул.
- Г) Потливость, стеснение в груди.
- Д) Тошнота, рвота.

Теоретические задания.


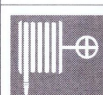

Задание 1. Укажите стрелками соответствие между изображением дорожного знака и его названием



Максимальное количество баллов – 10 баллов.

 <p>начало вело-дорожки</p>		<p>Запрещение движения на велосипеде</p>
--	--	--

	<i>Запрещено въезжать на велосипеде</i>	Конец велосипедной дорожки
		Начало велосипедной дорожки
		Пересечение с велосипедной дорожкой или велопешеходной дорожкой
		Пешеходная дорожка

Задание 2. Укажите стрелками соответствие между изображением знаков пожарной безопасности и его названием. Максимальное количество баллов – 10 баллов.

		Направление к эвакуационному выходу
		Пожарный кран
		Огнетушитель

		Пожарный гидрант
		Звуковой оповещатель пожарной тревоги

Задание 3.

Находясь в своей квартире, Вы обнаружили пожар на кухне (возгорание произошло от включенной электроплиты). Опишите безопасные действия в данных условиях.

Максимальное количество баллов – 20 баллов.

1. *Отключить газ (если есть)*
2. *Закрывать все окна и двери*
3. *Выключить плиту и другие приборы*
4. *Взять людей и животных в места возгорания*
5. *Возвратиться другим способом по телефону 112. Оповестить соседей о пожаре и сообщить о пожаре*

Задание 4.

Опишите правила поведения из четырех пунктов при обнаружении подозрительной вещи (предмета).

Максимальное количество баллов – 12 баллов.

1. *Не трогать предмет*
2. *оповестить окружающих о предмете*
3. *Если это розетка на болду, немедленно отключить розетку*
4. *Если это прибор что-то вызвать службу спасения (112)*

100

95

60

685

100