

Шифр 2-8-13

**Задания для участников 8 класса**  
**Инструкция по выполнению работы**  
Время, отведенное на выполнение заданий обоих туров – 90 минут.  
Максимальное количество баллов за оба тура – 84.  
Внимательно прочитайте каждое задание.  
Ответ записывайте разборчиво.

Примечание. Не разрешается пользоваться школьными атласами и другими источниками информации.

**ЗАДАНИЯ ТЕОРЕТИЧЕСКОГО ТУРА**  
Общее количество баллов – 64 балла

Задание	1	2	3	4	5	Итого
Максимальное кол-во баллов	3	15	8	8	30	64
Оценка участника						

**Задание 1. Определите, о каком материке идёт речь:**

Его береговая линия имеет несколько крупных выступов и почти лишена мелких заливов и полуостровов; на его территории преобладают равнины, но нет крупных низменностей; наблюдаются максимальные среднегодовые значения температуры воздуха; более ярко, чем на других материках, проявляется закон географической зональности.

Кто и когда из европейских путешественников первым достиг южной оконечности этого материка?

Элементы содержания верного ответа (допускаются иные формулировки ответа, не искажающие его смысла)	Баллы
1. Южная Америка	1
2.	
3.	

Критерии оценивания: за каждый правильный ответ 1 балл. Всего 3 балла.

**Задание 2. Физическая география России. Определите названия географических объектов А, Б, В, Г, Д по их общим чертам и фактам. Внесите в таблицу название, номер факта, субъект РФ в котором находится географический объект.**

**Общие черты:**

- А, Б, Д – это участки суши, вдающиеся в водное пространства и окружённые водой с 3 сторон.
- В, Г – группы островов (архипелаги).
- Б, В, Г, Д – находятся в Азии.
- Б, В – географические объекты расположены севернее полярного круга.

**Факты (один лишний):**

- 1) Самая высокая точка этого географического объекта вулкан Алайд – 2339 м.

- 2) Географический объект омывается Белым и Баренцевым морем.
- 3) На территории этого географического объекта сосредоточено много газовых месторождений, в том числе несколько уникальных на которых уже ведётся активная добыча.
- 4) До 2007 года на территории этого географического объекта было два субъекта РФ.
- 5) На территории этого географического объекта проживает приблизительно 2 млн человек.
- 6) До 1926 года объект носил название: Императора Николая II.

	А	Б	В	Г	Д
Название	Вольский п-ов	Курильские острова	Восточно-Сибирские острова	Курильские острова	Курильские острова
Факт	2.	3. 1	4.	1. 1	6.
Субъект РФ (полное название)	Курильские острова	Дальневосточный край	Сибирский край	Дальневосточный край	Дальневосточный край

Критерии оценивания: за каждый правильный ответ 1 балл. Всего 15 баллов.

**Задание 3. Сгруппируйте географические объекты по смыслу и по материкам:**

Триполи, Муррей, Калахари, Большая Песчаная, Замбези, Парана, Атакама, Руб-Эль-Хали, Долина Смерти, Мехико, Лима, Юкон, Сидней, Токио.  
 Ответ запишите в виде: Ближний Восток: Триполи, Австралия: Муррей, Замбези, Южная Америка: Атакама, Парана, Долина Смерти, Южная Америка: Лима, Юкон, Австралия: Сидней, Токио  
 По смыслу: Долина Смерти, Южная Америка: Атакама, Южная Америка: Лима, Австралия: Муррей, Австралия: Замбези, Австралия: Большая Песчаная, Австралия: Руб-Эль-Хали  
 По материкам: Африка: Муррей, Австралия: Замбези, Австралия: Большая Песчаная, Австралия: Руб-Эль-Хали, Австралия: Атакама, Австралия: Лима, Австралия: Долина Смерти, Австралия: Калахари, Австралия: Триполи  
 материк: объекты Африка: Муррей, Австралия: Замбези, Австралия: Большая Песчаная, Австралия: Руб-Эль-Хали, Австралия: Атакама, Австралия: Лима, Австралия: Долина Смерти, Австралия: Калахари, Австралия: Триполи

Критерии оценивания: за каждую верно составленную группу 1 балл. Всего 8 баллов.

**Задание 4. На денежных купюрах изображены российские города. Прочитайте описания изображений. Какие это купюры? Назовите города.**

- 1) На лицевой стороне: памятник Петру I, парусник и здание Морского речного вокзала. На оборотной стороне: Соловецкий монастырь. Санкт-Петербург; 5000
- 2) На лицевой стороне: памятник основателю этого города, часовня Казанской Богоматери, звонница с церковью Богоматери Печерской и Святые ворота с церковью Введения Спасо-Преображенского монастыря, а также герб города. На оборотной стороне: церковь Иоанна Предтечи. Владивосток; 500р.
- 3) На лицевой стороне: памятник дипломату, благодаря работе которого граница страны стала проходить по пограничной реке. На оборотной стороне: мост через эту реку. Владивосток; 200р.
- 4) На лицевой стороне: квадрига на портике. На оборотной стороне: один из крупнейших театров России. Москва; 100р.




Критерии оценивания: за каждый правильный ответ (назван только город или только купюра) 1 балл, за каждый правильный ответ названия и горда и купюры 2 балла. Всего 8 баллов.



**Задание 5.**

На международную конференцию по сохранению биологического разнообразия прибыли животные – представители разных природных зон, континентов и стран. Они наперебой рассказывали о местах своего обитания. Журналист перепутал все записи конференции, у него



сохранились лишь фотографии участников, но он напрочь забыл, из каких стран и природных зон они прибыли. Помогите восстановить необходимые данные и распределите утверждения участников конференции. Некоторые животные могут обитать в разных природных зонах, укажите одну – согласно приведенным ниже утверждениям.

Изображение участника конференции	Название животного	Природная зона	Страна	Номера утверждений
	Бык	Субарктическая	Канада	4, 11, 9, 2
	горилла	Континентальная субэкваториальная	Камерун	5, 6, 4, 15, 2
	бизон	степь	США	2, 10, 8, 1

	капибара	саванна	Бразилия	1, 13, 1
	Страус	Саванна	ЮАР	3, 14, 12, 2

1. Я крупнейший в мире грызун, приехал из страны, названной в честь итальянского города.
2. Я ближайший родственник европейского зубра, но живу в стране, расположенной в другой части света.
3. Меня ошибочно называют страусом, хотя я отношусь к отряду казуарообразных, я прибыл из страны, занимающей целый континент
4. Во время последнего оледенения я массово обитал по территории северных материков, но теперь обитаю лишь на Крайнем севере, я приехал из страны, где не являюсь аборигенным видом, но был привезён и прекрасно прижился на её территории.
5. Я человекообразная обезьяна, название моей страны дословно переводится с португальского языка как «река креветок».
6. Визитной карточкой моей страны является высочайший водопад мира.
7. Приглашаю насладиться красотой вулкана, созвучного с названием моей страны, у западных склонов которого зафиксировано наибольшее годовое количество осадков материка.
8. Будучи у меня в гостях, обязательно посетите остров, расположенный в трёх полушариях, объект Всемирного природного наследия ЮНЕСКО.
9. Добро пожаловать ко мне в старейший национальный парк мира, объект Всемирного природного наследия ЮНЕСКО, место горячих источников и современного вулканизма.
10. С радостью проведу Вам экскурсию к Улуру – древнему огромному монолиту, месту поклонения аборигенов моей страны.
11. Климат моей природной зоны не для любителей жаркого отдыха, даже летом температура воздуха редко поднимается выше +15 °С.
12. Моя природная зона сильно изменена человеком, климатические особенности позволяют в

летний сезон выращивать огромное количество зерновых культур.

13. Моя природная зона сформировалась в климатических условиях, где понятия «климат» и «погода» обозначают одно и то же.

14. Климат моей природной зоны характеризуется максимальными температурами воздуха, но из-за минимального количества атмосферных осадков на протяжении года растительный покров скуден.

15. Моя природная зона летом утопает в зелени, так как начинается сезон дождей, а зимой безлесное пространство желтеет из-за продолжительной засухи.

(Максимальный балл – 30)

Шифр 2-8-73

**ЗАДАНИЯ ТЕСТОВОГО ТУРА**  
Общее количество баллов – 20 баллов

Задание	1	2	3	4	5	6	7	8	
Максимальное кол-во баллов	1	1	1	1	1	1	1	1	
Оценка участника									
Задание	9	10	11	12	13	14	15	16	Итого
Максимальное кол-во баллов	1	1	1	1	1	1	1	5	20
Оценка участника									

**1. Какой физико-географический объект севернее?**

- а) Анабарское плато      б) Вилуйское плато  
в) Приленское плато      г) Яблоновый хребет

Критерии оценивания: за правильный ответ – 1 балл.

**2. Ранее назывался Пиллау город:**

- а) Балтийск      б) Черняховск      в) Гусев      г) Калининград

Критерии оценивания: за правильный ответ – 1 балл.

**3. С какой страной Россия имеет территориальные споры?**

- а) Грузия      б) Казахстан      в) Индия      г) Япония

Критерии оценивания: за правильный ответ – 1 балл.

**4. Присоединение Сибири к Русскому государству началось с похода:**

- а) Хабарова Е.П.      б) Дежнева С.И.      в) Ермака Тимофеевича

Критерии оценивания: за правильный ответ – 1 балл.

**5. Горы Саяны расположены вдоль границы России с:**

- а) Монголией      б) Казахстаном      в) Китаем      г) КНДР

Критерии оценивания: за правильный ответ – 1 балл.

**6. Какое стихийное природное явление не относится к литосфере?**

- а) цунами      б) пыльная буря      в) оползень      г) обвал

Критерии оценивания: за правильный ответ – 1 балл.

**7. Назовите реку, в которой утонул раненый В.И. Чапаев:**

- а) Белая      б) Кама      в) Печора      г) Урал

Критерии оценивания: за правильный ответ – 1 балл.

**8. Лотос, чилим, пеликаны, осетр охраняются в заповеднике:**

- а) Астраханском      б) Воронежском      в) Валдайском

Критерии оценивания: за правильный ответ – 1 балл.



9. Укажите какие территории разделяет Бассов пролив?

- а) Африка – о. Мадагаскар
- б) Северная Америка – о. Баффина Земля
- в) Австралия – о. Новая Гвинея
- г) Австралия – о. Тасмания

Критерии оценивания: за правильный ответ – 1 балл.

10. Манула можно встретить в дикой природе в:

- а) Египте
- б) Таджикистане
- в) Новой Зеландии
- г) Гондурасе

Критерии оценивания: за правильный ответ – 1 балл.

11. Какая из данных рек является самым длинным притоком в мире?

- а) Иртыш
- б) Миссури
- в) Дарлинг
- г) Ангара

Критерии оценивания: за правильный ответ – 1 балл.

12. На одном языке говорят в:

- а) Франции и Аргентине
- б) Испании и Бразилии
- в) Ирландии и Нигерии
- г) Германии и ЮАР

Критерии оценивания: за правильный ответ – 1 балл.

13. Какой великий русский землепроходец в 17 веке совершил ряд походов в Приамурье, занимался исследованием юго-восточной Сибири, написал «Чертёж реки Амуру»?

- а) Василий Данилович Поярков
- б) Семён Иванович Дежнёв
- в) Ерофей Павлович Хабаров
- г) Василий Васильевич Прончищев

Критерии оценивания: за правильный ответ – 1 балл.

14. В каком из регионов России можно застать полярный день и полярную ночь?

- а) ХМАО
- б) Республика Карелия
- в) Магаданская область
- г) Камчатский край

Критерии оценивания: за правильный ответ – 1 балл.

15. Гебридские острова принадлежат:

- а) Великобритании
- б) Испании
- в) Дании
- г) Швеции

Критерии оценивания: за правильный ответ – 1 балл.

16. В каком городе нет кремля?

- а) Саранск
- б) Зарайск
- в) Казань
- г) Тула

Критерии оценивания: за правильный ответ – 1 балл.

17. Установите, какой тип климата на территории, по которой протекает река, если она сильно мелеет в июне – августе и разливаясь в декабре-феврале.

- а) Экваториальный
- б) Тропический влажный
- в) Субэкваториальный
- г) Умеренный

Критерии оценивания: за правильный ответ – 1 балл.

18. К чему относятся слова харматтан, фен, бора?

- а) к морским течениям
- б) к кочевым народам
- в) к ветрам
- г) к растениям-суккулентам

Критерии оценивания: за правильный ответ – 1 балл.

19. Какой физико-географический объект объединяет такие страны как Россия, Туркмения, Иран, Казахстан, Азербайджан?

- а) Каспийское море
- б) Кавказские горы
- в) Уральские горы
- г) Прикаспийская низменность

Критерии оценивания: за правильный ответ – 1 балл.

20. Определите страну по её краткому описанию:

Это европейское государство – самая близкая к Российской Федерации монархия (королевство). Оно имеет 200-километровый участок границы с нашей страной. В этой стране основу электроэнергетики составляют гидроэлектростанции, на которых производят почти всю электроэнергию. На его территории расположена крайняя северная точка Европы. *Норвегия*

Критерии оценивания: за правильный ответ – 1 балл.