

Всероссийская олимпиада школьников по истории  
2024/25 учебный год  
Школьный этап

Задания для участников 5-х классов

Инструкция по выполнению работ  
Время на выполнение работы – 45 минут.  
Максимальное количество баллов – 80.

Уважаемый участник!

При выполнении работы внимательно читай текст заданий. Содержание ответа вписывай в отведённые поля, записи веди чётко и разборчиво.

За каждый правильный ответ можно получить определённое количество баллов, но не выше указанной максимальной оценки. Сумма набранных баллов за все решённые вопросы – итог работы.

Задания считаются выполненными, если Вы вовремя сдали их членам жюри.

Желаем успеха!

Шифр И5-24

Таблица для внесения баллов заполняется членами жюри

1	2	3	4	5	6	7	8	9	Общая сумма баллов	Место
9	10	5	5	4	6	5	3	7	59	1

**Задание 1.** Выберите правильный ответ (по 1 баллу за каждый правильный ответ. Максимальный балл - 10)

1. Древнейшие люди жили на территории:

- А) Восточной Африки;
- Б) Западной Азии;
- В) Испании.

2. Первое орудие труда первобытного человека:

- А) Плуг;
- Б) Мотыга;
- В) Заостренный камень.

3. Первый металл, из которого древние люди научились делать орудия труда:

- А) Медь;
- Б) Бронза;
- В) Золото.

4. Какое занятие относится к производящему типу хозяйства:

- А) Собирательство;
- Б) Земледелие;
- В) Охота.

5. Первое домашнее животное, прирученное человеком:

- А) Лошадь;
- Б) Овца;
- В) Собака.

6. Как называется объединение семей, живущих в одной местности и отдельно ведущих хозяйство и владеющих своим имуществом:

- А) Род;
- Б) Соседская община;
- В) Человеческое стадо.

7. Столица египетского царства:

- А) Мемфис;
- Б) Фивы;
- В) Ахетатон.

8. Орудие труда, при помощи которого первобытные люди ловили рыбу:

- А) Лук;
- Б) Рубило;
- В) Гарпун.

9. Когда появился человек на земле?

- А) 2 млн. лет назад;
- Б) 100 тыс. лет назад;
- В) 10 тыс. лет назад.

10. Выберите причину появления религии:



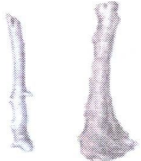







- А) Неумение человеком объяснять явления природы;
- Б) Боязнь человека перед стихией природы;
- В) Желание человека отличаться от животных.

Ответ:

1	2	3	4	5	6	7	8	9	10
А	В	А	Б	В	Б	А	В	А	Б

**Задание 2.** (по 2 балла за каждое правильное соответствие. Максимальный балл - 10)

Многие известные нам сегодня орудия труда ведут свою историю с древнейших времён. Тогда они были просты, примитивны и, тем не менее, выполняли свою функцию. Рассмотрите представленные изображения и соедините попарно древние орудия труда с их современными «потомками»

Примитивные орудия труда		Современный аналог
А) 	X	1  +
Б) 		2  +
В) 		3  +
Г) 		4  +
Д) 		5  +

10

А	Б	В	Г	Д
4	3	5	2	1

**Задание 3.** (Максимум за задание – 5 баллов).

Расставьте годы и века в верной хронологической последовательности (впишите в таблицу только цифры 1-5).

5 1) IV век до н. э. 2) 490 год до н. э. 3) 1945 год н. э. 4) XIII век н.э. 5) 2024 год н.э.

Ответ: 

2	1	4	3	5
---	---	---	---	---

**Задание 4.** (Максимум за всё задание 12 баллов. Первое задание 3 балла, второе задание 3 балла, третье задание 6 баллов).

Рассмотрите рисунок. Он взят из самой древней египетской книги.

А) Укажите название книги

Б) Укажи материал, из которого была изготовлена книга.

В) Опиши событие, изображенное древними египтянами.



5 Ответ:

А)


Б) Папирус

В) Анубис взвешивает правосудие

**Задание 5.** (Максимум за всё задание 8 баллов).

Перед вами фотографии, иллюстрирующие деятельность историков.

5.1. (Максимум за задание – 3 балла, по 1 баллу за каждый верный ответ). Выберите номера изображений, связанных с работой историков с письменными источниками



5.1 Ответ: 2, 5

5.2. (Максимум за задание – 5 баллов, по 1 баллу за каждое верно выбранное утверждение).

Выбери верные и неверные утверждения. Ответы («да» – «нет») вноси в таблицу.

1. Все профессии ученых, изображенных на картинке, связаны с работой с письменными источниками
2. Работа этих ученых связана с изучением жизни современных людей.
3. В своей работе ученые определяют достоверность источника.
4. В ходе работы ученые проводят раскопки.
5. Ученые этой профессии определяют авторство письменного источника.

4

Ответ:	1 +	2 +	3	4 +	5
	НЕТ	НЕТ	НЕТ	ДА	НЕТ

**Задание 6.** (Максимум за задание 16 баллов, по 2 балла за каждую найденную и исправленную ошибку).

Найдите 8 исторических ошибок в сочинении ученика и исправьте их, заполнив таблицу.

3  
~~Восточная Африка~~ более двух миллионов лет назад. Вот движется группа похожих на обезьян людей. Первобытные люди осваивают новую родину, переселившись из ~~Азии~~. На горизонте виден ~~ледник~~, который медленно движется на ~~север~~. Все спешат уйти от непогоды - небо почернело от туч. Только двое веселых мальчишек увлеченно о чем-то разговаривают. Внезапно повалил сильный ~~снег~~, все сразу продрогли, даже одежда из звериных шкур не могла защитить людей от холода. Наконец они спрятались в пещере. Тут же достали из-за пазух и стали жевать корни, орехи и черствый ~~хлеб~~. Чтобы согреться они разожгли огонь. Вдруг все застали от ужаса: к пещере приближается страшный хищник - огромный ~~динозавр~~.

6

	Ошибка	Исправление
1	ДИНОЗАВР +	ТИГР
2	ВОСТОЧНАЯ АФРИКА	ЗАПАДНАЯ АЗИЯ
3	АЗИИ +	АФРИКИ +
4	СНЕГ +	ДОЖДЬ
5	ЛЕДНИК +	ГРОМ
6	СЕВЕР	ЗАПАД

7	ХЛЕБ +	КУСОК МЯСА
8		

**Задание 7.** (Максимум за задание – 5 баллов)

Решите задачи. ОБЯЗАТЕЛЬНО напишите арифметические действия.

1) В 2000 году археологами был раскопан могильник вождя, где найдены остатки бус из драгоценных камней, золотые и серебряные сосуды. Установлено, что захоронение было сделано за 6240 лет до его находки археологами. В каком году был захоронен вождь? Запишите решение и ответ. (2 балла)

**Решение**

$$6240 - 2000 = 4240 \text{ г. до н.э.}$$

2) Считается, что самая высокая пирамида Хеопса была построена в 2600 г. до н.э. А самые крупные завоевания совершил фараон Тутмос в 1500 г. до н.э. Сколько лет прошло между этими событиями? Сколько лет назад была построена пирамида Хеопса? Приведите свои вычисления. (3 балла)

**Решение:**  $2600 - 1500 = 1100 \text{ (лет)} - \text{РАЗНОСТЬ.}$

$$2600 + 2024 = 4624 \text{ (года)} - \text{НАЗАД.}$$

**Задание 8.** (Максимум за задание – 5 баллов)

Прочитайте стихотворение. Выполните задания.

Человек – дитя природы, Тут ничто не изменить. И однажды природа решила От животных его отделить! Наделила умом и смекалкой. Научила плоды собирать. А потом подсказала, что палкой Можно лунки в земле раскопать. Положить в них	И тогда вдруг наступит то время. Когда можно зерно собирать. Эволюция шла, убыстрялась. Человек долго палкой копал. А природа, глядя, ухмылялась. Как он всё по чуть-чуть узнавал. И однажды он понял, что мало	Так в то время возникла лопата, Но она очень ломкой была. Человек взял загнутую палку И настало тут время тесла. Ну а вскоре решил на тесло он Надеть от животных рога. Или острую кость, или камень.
--	--	--

пшеничное семя И почаще его поливать	У него вырастает зерна. Взял широкую кость для начала, Посмотрел, как копает она?	И вот это мотыга была.
---	---	------------------------

8.1. Напишите, о возникновении, какого занятия древних людей идёт речь (1 балл)

ЗЕМЛЕДЕЛИЕ

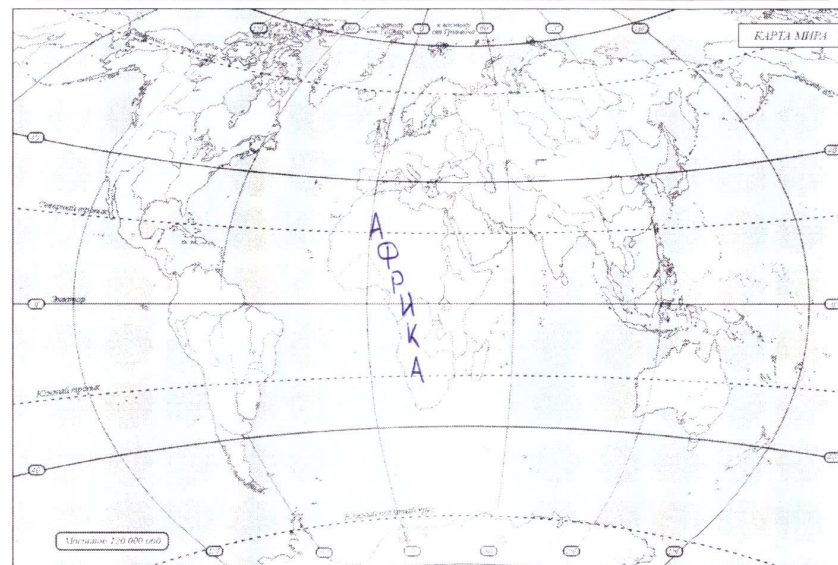
8.2. Укажите, когда это занятие возникло (1 балл)

3

8.3. Укажите не менее двух других орудий труда, которые человек использовал в этом занятии. (2 балла)

ЛОПАТА, МОТЫГА, ~~ПАЛКА~~ ТЕСЛО

8.4. Напишите на карте название материка, где возникло занятие героя стихотворения. (1 балл)



**Задание 9.** Выясни, насколько ты знаком с историей своей «малой родины» Югры. (Максимум за задание – 9 баллов).

**9.1.** Выберите месторождение нефти, которое находится под дном озера и получило свое название в его честь. (2 балла)

1. Самотлорское нефтяное месторождение
2. Приобское нефтяное месторождение
3. Лянторское нефтегазоконденсатное месторождение
4. Талаканское нефтегазоконденсатное месторождение




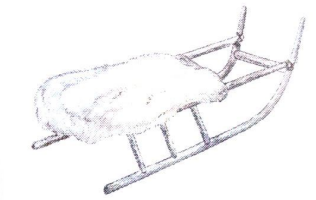
Ответ: ~~1~~ 4

**9.2.** Из чего традиционные народы Севера - ханты шили одежду? (3 балла)

1. Крапива
2. Шкура оленя
3. Шкура рыбы
4. Шкура лягушки

Ответ: 2

**9.3.** Соотнеси названия предметов быта коренных народов Севера с изображениями этих предметов, вписав в таблицу их номера. (4 балла)

1 	2 
3 	4 

7

Ответ:

бубен	чум	нарты	ляпмы
2	1	4	3

ВСЕГО 80 БАЛЛОВ.