

52

8 класс

Инструкция по выполнению работ
Время на выполнение работы – 90 минут.
Максимальное количество баллов – 100.

Вам предлагается выполнить задания школьного этапа Олимпиады. Просим внимательно прочесть формулировку каждого задания, чтобы дать ответ на поставленные вопросы в той форме, которую предполагает каждое задание. Успехов Вам в выполнении работы!

Шифр 48-22

Задание № 1. Выберите один правильный ответ. Впишите ответы в таблицу.

1.1. В каком году произошли описанные события?
«Того же месяца февраля в 27 день царь великий и князь Иван Васильевич всея Руси в своих царских полатах перед отцем своим Макарем митрополитом и предо всем осененным собором говорил боярам своим князю Дмитрию Феодоровичю Бельскому, князю Юрию Михайловичу Булгакову, князю Петру Михайловичу Щенятеву и иным своим бояром, и околичним, и дворянским, и казначеям, что до его царского возраста от них и от их людей детям боярским и христианом чинились насилия и тяготы великие в землях, и в и в холодах и в быных во многих делах, и они бы вперед так не чинили... а хто вперед кому учинит силу или продажу и обиду, и тем от царя и великого князя быти в опале и в казни».

А) 1612 г. Б) 1558 г. В) 1549 г. Г) 1610 г.

1.2. Определите по нижеприведенному отрывку, о каком историческом событии идет речь?
«Подошла года Москва оставалась полем сражения. За это время жители привыкли поминутно ждаль удара ядра и прятаться от обстрелов. Теперь сражение было выиграно. Лихая година осталась позади. В честь победы был устроен парад. Земская рать построилась на Арбате, а оттуда торжественным маршем проследовала в Китай-город. Отряды Трубецкого, собравшиеся за Покровскими воротами, вступили в крепость с другой стороны. Войска сошлись на площади подле Лобного места, откуда двинулись через Спасские ворота в Кремль. Пробыл великий час. Древняя столица Русского государства была полностью очищена от иноземных завоевателей».

А) Первое ополчение Б) Куликовская битва В) Второе ополчение Г) Ледовое побоище.

1.3. Назовите фамилию государственного и политического деятеля, кто стоял в 1606 г. во главе боярского заговора, который низложил первого самозванца, выдававшего себя за царевича Дмитрия?

А) Шуйский Б) Трубецкий В) Алашев Г) Шени

1.4. В каком году на Переяславской раде казачья старшина и войско присягнули на верность российскому царю?

А) 1687г. Б) 1654г. В) 1667г. Г) 1659 г.

1.5. Кто из архитекторов возвел стены и башни Китай-города, построил ряд церквей. Ему же некоторые ученые приписывают авторство церкви Вознесения в селе Коломенском?

А) Федор Конь. В) Алевиз Фрязин Б) Иван Пересветов Г) Петрок Малый

Ответ:

1.1.	1.2.	1.3.	1.4.	1.5.
Б	Б	В	Б	Г

Критерии оценивания: за каждый верный ответ - 2 балла, всего - 10 баллов.

Задание № 2. Какое из перечисленных понятий (имён, дат, событий) является лишним в данном ряду? Лишнее слово или словосочетание зачеркните. Укажите, по какому принципу образован каждый ряд, то есть кратко поясните, что объединяет события (понятия, имена, даты).

А) кантеле, курай, гусли, варган, ~~энос~~
 Ответ: ~~энос~~, ~~шестерёнки~~
 Б) 1497 г., 1580 г., 1581 г., 1597 г., 1612 г., 1649 г.

В) гривна, яск, ~~дино~~, алтын.
 Ответ: ~~дино~~

Г) ~~Мария Ильинична Митрофановна~~, Елса Васильевна Глинская, Наталья Кирилловна Нарышкина

Ответ: ~~Мария Ильинична Митрофановна~~
 Критерии оценивания: за каждый верный ответ - 4 балла, всего - 16 баллов.

Задание № 3. Выберите три правильных ответа на каждый вопрос. Впишите ответы в таблицу.

3.1. Отметьте последствия великих географических открытий:
 1) увеличение количества драгоценных металлов в Европе
 2) быстрый прогресс индейских цивилизаций Нового Света
 3) истощение месторождений драгоценных металлов в Европе
 4) развитие медицины
 5) ускорение процесса развития городов в Европе
 6) появление огнестрельного оружия

3.2. Какие народы вошли в состав единого Русского государства во второй половине XVI в.?:

1) коми 4) марийцы
 2) мордва 5) саамы
 3) ненцы 6) ханты

3.3. Какие решения были приняты на Стоглавом соборе ?

1) о введении общерусского почитания святых
 2) об установлении патриаршества в России
 3) ограничение роли католической церкви
 4) об укреплении церковной дисциплины
 5) об изъятии церковных земель в пользу государства
 6) о регламентации церковных служб и обрядов

Ответ:

3.1	3.2	3.3
5, 2, 4	1, 3, 6	6, 1, 2, 4

Критерии оценивания: за каждый верный ответ - 1 балл, всего - 9 баллов.

Задание № 4. Выберите один правильный ответ. Впишите ответы в таблицу.

4.1. Что означает термин «мягкая рухлядь»?

1) участок, отличный от окружающей местности
 2) название пушнины в XV-XVIII вв. в России, выступающая не только как товар, но и как денежный эквивалент.
 3) старые, пришедшие в негодность вещи.

4.2. В каком году купцы Строгановы получают от царя грамоту, разрешающую строительство крепостей на реке Тоболе, на территории Сибирского ханства?

1) 1570 г. 2) 1572 г. 3) 1569 г.

4.3. В каком году был издан Наказ Федора Иоановича о строительстве города в Сургуте?
 1) 1593 г. 2) 1598 г. 3) 1594 г.

Ответ:
 4.1. 2 4.2. 2 4.3. 3

Критерии оценивания: за каждый верный ответ - 1 балл, всего - 3 балла

35

Задание № 5. Определите хронологический порядок событий. Запишите буквенные обозначения событий в хронологическом порядке в приведенную таблицу.

- 5.1. А) свержение В.И. Шуйского Б) бой второго ополчения за Москву
 В) начало польского вторжения Г) осада Болотниковым Москвы
 Д) возникновение Тушинского лагеря Е) восстание Хлопка

- 5.2. А) Поход Василия Пояркова из Якутска на Амур и его плавание по Охотскому морю.
 Б) Русский казак Михаил Стадухин достиг морем реки Колымы и построил здесь зимовье (Нижнеколымское).
 В) Путешествие на Камчатку русских казаков Владимира Атласова и Луки Мороско.
 Г) Семен Ульянович Ремезов составил в Москве «Чертеж всей Сибири».
 Д) открытие Х. Колумбом Америки
 Е) Поход русского казака Ерофея Хабарова на Амур и основание им на реке Амур города Албазин.

- 5.3. А) начало Ливонской войны Б) въезд Лжедмитрия I в Москву
 В) образование Первого ополчения Г) Ям-Запольское перемирие
 Д) введение патриаршества в России Е) битва при Молодах


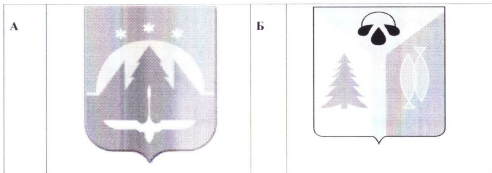
Ответ:

	1	2	3	4	5	6
5.1	А	В	Б	Г	Д	Е
5.2	Б	А	Е	А	Б	Г
5.3	А	Е	В	А	Б	Г

Критерии оценивания: за каждый верный ответ - 1 балл, всего - 18 баллов.

45

Задание № 6. Внимательно рассмотрите изображения и выполните задания.



6.1. Запишите названия населенных пунктов, гербы которых представлены на изображениях.
 Ответ:

А) Верхний Ланск Б) поселок Редзяб В) село Сурган Г) Мимох Д) Ханты-Мансийск Е) Самарово

6.2. Выпишите букву, обозначающую герб населенного пункта, расположенного на реке, название которой в переводе с хантыйского языка означает «Божья река».

Ответ: Г

25

6.3. Выпишите букву, обозначающую герб населенного пункта, который своим названием обязан геофизику Сургутской нефтегазодобывающей экспедиции - Виктору Петровичу Федорову.

Ответ: Б

6.4. Выпишите букву, обозначающую герб населенного пункта, именовавшегося в середине XVII в. как «Самарово», но не имеющее никакого отношения к городу Самара.

Ответ: Е
 Критерии оценивания: за каждый верный ответ - 1 балл, всего - 9 баллов.

Задание № 7. Если вы согласны с утверждением, напишите «да», если не согласны - «нет». Внесите свои ответы в таблицу.

- 7.1. Покровский собор был построен русскими мастерами Барма и Постник.
 7.2. Одной из черт единого государства, имевшее место в России к середине XVI в., являлся единый хорошо развитый государственный аппарат.
 7.3. Кормление это система крупное земельное владение без права продажи.
 7.4. В 1550 г. на Земском соборе был утвержден новый Судебник.
 7.5. Одной из причин Смутного времени явилась смерть Ивана Грозного.

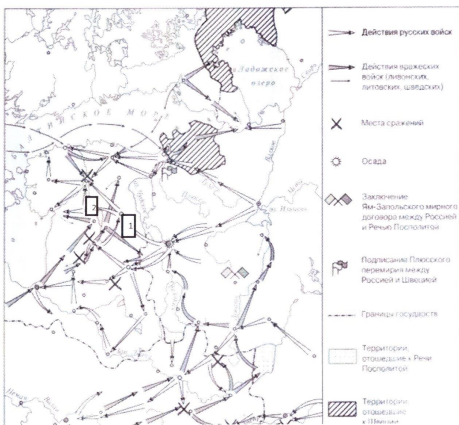
Ответ:

7.1.	7.2.	7.3.	7.4.	7.5.
да	да	нет	да	да

35

Критерии оценивания: за каждый верный ответ - 1 балл, всего - 5 баллов.

Задание № 8. Рассмотрите карту и выполните предложенные задания



- 8.1. Укажите название войны, события которой отражены на карте _____ (название войны).
- 8.2. Укажите монарха, в период правления которого, происходила данная война _____ (имя монарха).
- 8.3. Под цифрой «1» обозначен город, осада которого продолжалась 5 месяцев. Оборону данного города возглавил царь Иван Шуйский _____ (название города).
- 8.4. Под цифрой «2» обозначен город, некогда основанный Ярославом Мудрым, именуемый ныне как Тарту _____ (напишите название города).
- 8.5. Кто возглавлял войска Речи Посполитой, при осаде города, обозначенного под цифрой «1» _____ (напишите имя/фамилию короля).

Ответ:

8.1.	Восток - шведская война	
8.2.	Иван IV	+
8.3.	Москва	20
8.4.	Киев	
8.5.	Ксентович	

Критерии оценивания: за каждый верный ответ - 2 балла, всего - 10 баллов.

Задание № 9. Определите пропущенные в тексте названия, понятия, имена, даты, обозначенные порядковыми номерами. При необходимости при порядковых номерах даются пояснения о характере требуемой вставки. Необходимые вставки впишите под соответствующими номерами в помещённую ниже таблицу.

В 1(год) Иван IV, получивший в народе прозвище 2(укажите прозвище), повелел собрать в Москве представителей духовенства и служилых людей для обсуждения преобразований. Это был первый в истории России 3(название учреждения)- собрание представителей всех русских земель, где обвинил бояр в злоупотреблениях, которые они творили во времена его малолетства, и пообещал в дальнейшем охранять население от произвола бояр и местных властей. В 4(год) на 5(название учреждения) был утвержден новый 6(название документа). В нем был увеличен размер ложного при переходе крестьян, в 7(название) день, от одного помещика к другому, ужесточались наказания для разбойников, вводились наказания за взятки, ограничивались права наместников. Закончилось формирование системы центральных органов управления 8(название органа), ведавшие определенными государственными делами или территориями. В 9(год) состоялся церковный собор. Сборник документов, которые принял собор, состоял из ста глав, поэтому собор был назван 10 (название). Собор привел к единообразию церковные обряды, разработал правила поведения для духовенства с целью повышения его образовательного и нравственного уровня.

Ответ:

1.	1547 г.	+
2.	Грозный	+
3.	Земский собор	+
4.	1550 г.	+
5.	Земский собор	+
6.	Судебник	+
7.	Юрьев	+
8.	Коллежия	+
9.	1551 г.	+
10.	Стоглав	+

Критерии оценивания: за каждый верный ответ - 2 балла, всего - 20 баллов.