

500

8 класс

Инструкция по выполнению работ

Время на выполнение работы – 90 минут.
Максимальное количество баллов – 100.

Вам предлагается выполнить задания школьного этапа Олимпиады. Просим внимательно прочесть формулировку каждого задания, чтобы дать ответ на поставленные вопросы в той форме, которую предполагает каждое задание. Успехов Вам в выполнении работы!

Шифр 118-8

Задание № 1. Выберите один правильный ответ. Впишите ответы в таблицу.

1.1. В каком году произошли описанные события?
«Того же месяца февраля в 27 день царь великий и князь Иван Васильевич всея Руси в своих царских полатах перед отцем своим Макарем митрополитом и предо всем осененным собором говорил боярам своим князю Дмитрию Феодоровичю Бельскому, князю Юрию Михайловичу Булгакову, князю Петру Михайловичу Шенятеву и иным своим бояром, и околичим, и дворецким, и казначеем, что до его царского возраста от них и от их людей детям боярским и христьяном чинилися насилиа и тяготы великие в землях, и в и в холопах и в иных во многих делех, и онии бы вперед так не чинили... а хто вперед кому учинит силу или продажу и обиду, и тем от царя и великого князя быти в опале и в казни».

А) 1612 г. Б) 1558 г. В) 1549 г. Г) 1610 г.

1.2. Определите по нижеприведенному отрывку, о каком историческом событии идет речь?
«Полтора года Москва оставалась полем сражения. За это время жители привыкли поминутно ждать удара ядра и прятаться от обстрелов. Теперь сражение было выиграно. Лихая година осталась позади. В честь победы был устроен парад. Земская рать построилась на Арбате, а оттуда торжественным маршем проследовала в Китай-город. Отряды Трубецкого, собравшиеся за Покровскими воротами, вступили в крепость с другой стороны. Войска сошлись на площади подле Лобного места, откуда двинулись через Спасские ворота в Кремль. Пробил великий час. Древняя столица Русского государства была полностью очищена от иноземных завоевателей».

А) Первое ополчение Б) Куликовская битва В) Второе ополчение Г) Ледовое побоище.

1.3. Назовите фамилию государственного и политического деятеля, кто стоял в 1606 г. во главе боярского заговора, который низложил первого самозванца, выдававшего себя за царевича Дмитрия?
А) Шуйский Б) Трубецкой В) Адашев Г) Шени

1.4. В каком году на Переяславской раде казачья старшина и войско присягнули на верность российскому царю?
А) 1687г. Б) 1654г. В) 1667г. Г) 1659 г.

1.5. Кто из архитекторов возвел стены и башни Китай-города, построил ряд церквей. Ему же некоторые ученые приписывают авторство церкви Вознесения в селе Коломенском?
А) Федор Конь В) Алевиз Фрязин Б) Иван Пересветов Г) Петрок Малый

Ответ:

| | | | | |
|------|------|------|------|------|
| 1.1. | 1.2. | 1.3. | 1.4. | 1.5. |
| Б | А | А | Б | Б |

Критерии оценивания: за каждый верный ответ – 2 балла, всего – 10 баллов.

Задание № 2. Какое из перечисленных понятий (имён, дат, событий) является лишним в данном ряду? Лишнее слово или словосочетание зачеркните. Укажите, по какому принципу образован каждый ряд, то есть кратко поясните, что объединяет события (понятия, имена, даты).

А) кантеле, курай, гусли, варган, энео
 Ответ: не музыкальный инструмент +

Б) 1497 г., 1550 г., 1581г., 1597 г., 1612 г., 1649 г.

Ответ: _____
 В) гривна; ясак; пуло, алтын.

Г) Мария Ильинична Милославская, Елена Васильевна Глинская, Наталья Кирилловна Нарышкина

Ответ: еще 4 фамилии дома регента +
 Критерии оценивания: за каждый верный ответ – 4 балла, всего – 16 баллов.

Задание № 3. Выберите три правильных ответа на каждый вопрос. Впишите ответы в таблицу.

3.1. Отметьте последствия великих географических открытий:

- 1) увеличение количества драгоценных металлов в Европе
- 2) быстрый прогресс индейских цивилизаций Нового Света
- 3) истощение месторождений драгоценных металлов в Европе
- 4) развитие медицины
- 5) ускорение процесса развития городов в Европе
- 6) появление огнестрельного оружия

3.2. Какие народы вошли в состав единого Русского государства во второй половине XVI в.?:

- 1) коми
- 2) мордва
- 3) ненцы
- 4) марийцы
- 5) саамы
- 6) ханты

3.3. Какие решения были приняты на Стоглавом соборе ?

- 1) о введении общерусского почитания святых
- 2) об установлении патриаршества в России
- 3) ограничение роли католической церкви
- 4) об укреплении церковной дисциплины
- 5) об изъятии церковных земель в пользу государства
- 6) о регламентации церковных служб и обрядов

Ответ:

| | | |
|---------|---------|---------|
| 3.1 | 3.2 | 3.3 |
| 4, 5, 6 | 1, 2, 6 | 4, 5, 6 |

Критерии оценивания: за каждый верный ответ – 1 балл, всего – 9 баллов.

Задание № 4. Выберите один правильный ответ. Впишите ответы в таблицу.

4.1. Что означает термин «мягкая рухлядь»?

- 1) участок, отличный от окружающей местности
- 2) название пушнины в XV-XVIII вв в России, выступающая не только как товар, но и как денежный эквивалент.
- 3) старые, пришедшие в негодность вещи.

4.2. В каком году купцы Строгановы получают от царя грамоту, разрешающую строительство крепостей на реке Тобол, на территории Сибирского ханства?

- 1) 1570 г.
- 2) 1572 г.
- 3) 1569 г.

4.3. В каком году был издан Наказ Федора Иоановича о строительстве города в Сургуте?
 1) 1593 г. 2) 1598 г. 3) 1594 г.

Ответ:

| | | | | | |
|------|---|------|---|------|---|
| 4.1. | 2 | 4.2. | 2 | 4.3. | 3 |
|------|---|------|---|------|---|

Критерии оценивания: за каждый верный ответ - 1 балл, всего - 3 балла.

Задание № 5. Определите хронологический порядок событий. Запишите буквенные обозначения событий в хронологическом порядке в приведенную таблицу.


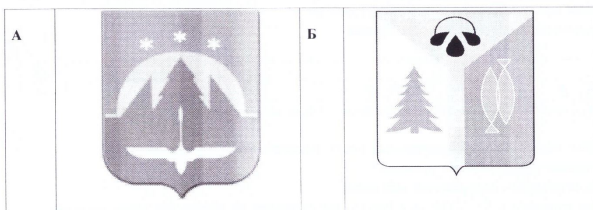
- 5.1. А) свержение В.И Шуйского Б) бои второго ополчения за Москву
 В) начало польского вторжения Г) осада Болотниковым Москвы
 Д) возникновение Тушинского лагеря Е) восстание Хлопка
- 5.2. А) Поход Василия Пояркова из Якутска на Амур и его плавание по Охотскому морю.
 Б) Русский казак Михаил Сталухин достиг морем реки Колымы и построил здесь зимовье (Нижнеколымское).
 В) Путешествие на Камчатку русских казаков Владимира Атласова и Луки Мороско.
 Г) Семен Ульянович Ремезов составил в Москве «Чертеж всей Сибири».
 Д) открытие Х. Колумбом Америки
 Е) Поход русского казака Ерофея Хабарова на Амур и основание им на реке Амур города Албазин.
- 5.3. А) начало Ливонской войны Б) въезд Лжедмитрия I в Москву
 В) образование Первого ополчения Г) Ям-Запольское перемирие
 Д) введение патриаршества в России Е) битва при Молодах

Ответ:

| | | | | | | |
|-----|---|---|---|---|---|---|
| | 1 | 2 | 3 | 4 | 5 | 6 |
| 5.1 | Б | А | А | Г | Б | Е |
| 5.2 | В | А | Б | В | Е | Г |
| 5.3 | А | Б | В | А | Е | Г |

Критерии оценивания: за каждый верный ответ - 1 балл, всего - 18 баллов.

Задание № 6. Внимательно рассмотрите изображения и выполните задания.



6.1. Запишите названия населенных пунктов, гербы которых представлены на изображениях.

Ответ:

| | | | | | |
|----------|---|--------|---|----------------|---|
| А | Б | В | Г | Д | Е |
| Норильск | | Сургут | | Ханты-Мансийск | |

6.2. Выпишите букву, обозначающую герб населенного пункта, расположенного на реке, название которой в переводе с хантыйского языка означает «Божья река».

Ответ: Б

6.3. Выпишите букву, обозначающую герб населенного пункта, который своим названием обязан геофизику Сургутской нефтегазодобывающей экспедиции - Виктору Петровичу Федорову.

Ответ: Г

6.4. Выпишите букву, обозначающую герб населенного пункта, именовавшегося в середине XVII в., как «Самарово», но не имеющее, никакого отношения к городу Самара.

Ответ: Е

Критерии оценивания: за каждый верный ответ - 1 балл, всего - 9 баллов.

Задание № 7. Если вы согласны с утверждением, напишите «да», если не согласны - «нет». Внесите свои ответы в таблицу.

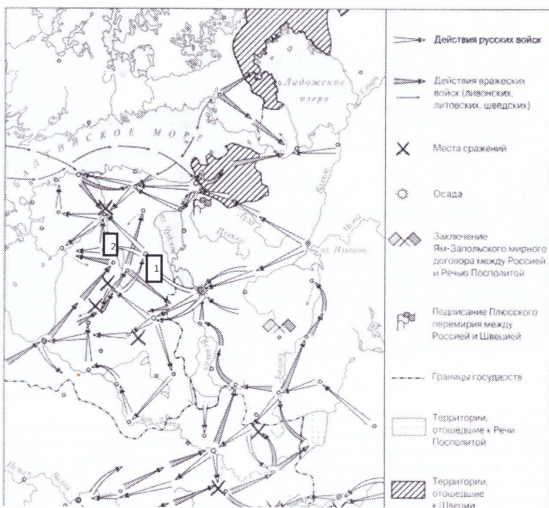
- 7.1. Покровский собор был построен русскими мастерами Барма и Постник.
 7.2. Одной из черт единого государства, имевшее место в России к середине XVI в., являлся единый хорошо развитый государственный аппарат.
 7.3. Кормление это система крупное земельное владение без права продажи.
 7.4. В 1550 г. на Земском соборе был утвержден новый Судебник.
 7.5. Одной из причин Смутного времени явилась смерть Ивана Грозного.

Ответ:

| | | | | |
|------|------|------|------|------|
| 7.1. | 7.2. | 7.3. | 7.4. | 7.5. |
| нет | да | нет | да | нет |

Критерии оценивания: за каждый верный ответ - 1 балл, всего - 5 баллов.

Задание № 8. Рассмотрите карту и выполните предложенные задания



- 8.1. Укажите название войны, события которой отражены на карте _____ (название войны).
- 8.2. Укажите монарха, в период правления которого, происходила данная война _____ (имя монарха).
- 8.3. Под цифрой «1» обозначен город, осада которого продолжалась 5 месяцев. Оборону данного города возглавил царь Иван Шуйский _____ (название города).
- 8.4. Под цифрой «2» обозначен город, некогда основанный Ярославом Мудрым, именуемый ныне как Тарту _____ (напишите название города).
- 8.5. Кто возглавлял войска Речи Посполитой, при осаде города, обозначенного под цифрой «1» _____ (напишите имя/фамилию короля).

Ответ:

| | | |
|------|--------------|---|
| 8.1. | Ливонская | + |
| 8.2. | Иван Шуйский | |
| 8.3. | Псков | + |
| 8.4. | | |
| 8.5. | | |

Критерии оценивания: за каждый верный ответ - 2 балла, всего - 10 баллов.

Задание № 9. Определите пропущенные в тексте названия, понятия, имена, даты, обозначенные порядковыми номерами. При необходимости при порядковых номерах даются пояснения о характере требуемой вставки. Необходимые вставки впишите под соответствующими номерами в помещённую ниже таблицу.

В 1(год) Иван IV, получивший в народе прозвище 2(укажите прозвище), повелел собрать в Москве представителей духовенства и служилых людей для обсуждения преобразований. Это был первый в истории России 3(название учреждения) - собрание представителей всех русских земель, где обвинил бояр в злоупотреблениях, которые они творили во времена его малолетства, и пообещал в дальнейшем охранять население от произвола бояр и местных властей. В 4(год) на 5(название учреждения) был утвержден новый 6(название документа). В нем был увеличен размер пожлого при переходе крестьян, в 7(название) день, от одного помещика к другому, ужесточались наказания для разбойников, вводились наказания за взятки, ограничивались права наместников. Закончилось формирование системы центральных органов управления 8(название органа), ведавшие определенными государственными делами или территориями. В 9(год) состоялся церковный собор. Сборник документов, которые принял собор, состоял из ста глав, поэтому собор был назван 10 (название). Собор привел к единообразию церковные обряды, разработал правила поведения для духовенства с целью повышения его образовательного и нравственного уровня.

Ответ:

| | | |
|-----|----------------|---|
| 1. | 1549 | + |
| 2. | Грозный | + |
| 3. | Земский собор | + |
| 4. | 1590 | + |
| 5. | Земский собор | + |
| 6. | Судебник | + |
| 7. | Июль | + |
| 8. | Войсковая дума | - |
| 9. | 1591 | + |
| 10. | Стефан | + |

Критерии оценивания: за каждый верный ответ - 2 балла, всего - 20 баллов.