

520

8 класс

**Инструкция по выполнению работ**

Время на выполнение работы – 90 минут.  
Максимальное количество баллов – 100.

Вам предлагается выполнить задания школьного этапа Олимпиады. Просим внимательно прочесть формулировку каждого задания, чтобы дать ответ на поставленные вопросы в той форме, которую предполагает каждое задание. Успехов Вам в выполнении работы!

Шифр У8-9

**Задание № 1. Выберите один правильный ответ. Впишите ответы в таблицу.**

1.1. В каком году произошли описанные события?  
«Того же месяца февраля в 27 день царь великий и князь Иван Васильевич всея Руси в своих царских полатах перед отцем своим Макарьем митрополитом и предо всем осещенным сосбором говорил боярам своим князю Дмитрию Федоровичю Бельскому, князю Юрию Михайловичу Булгакову, князю Петру Михайловичу Щенятеву и иным своим бояром, и okolничим, и дворецким, и казначеем, что до его царьского возраста от них и от их людей детям боярским и христьяном чинилися насилия и тяготы великие в землях, и в в в холопех и в ыных во многих делех, и онии бы вперед так не чинили... а хто вперед кому учинит силу или продажу и обиду, и тем от царя и великого князя быти в опале и в казни».

A) 1612 г.    B) 1558 г.    C) 1549 г.    D) 1610 г.

1.2. Определите по нижеприведенному отрывку, о каком историческом событии идет речь?  
«Полтора года Москва оставалась полем сражения. За это время жители привыкли поминутно ждать удара ядра и прятаться от обстрелов. Теперь сражение было выиграно. Лихая година осталась позади. В честь победы был устроен парад. Земская рать построилась на Арбате, а оттуда торжественным маршем проследовала в Китай-город. Отряды Трубецкого, собравшиеся за Покровскими воротами, вступили в крепость с другой стороны. Войска сошлись на площади подле Лобного места, откуда двинулись через Спасские ворота в Кремль. Пробил великий час. Древняя столица Русского государства была полностью очищена от иноземных завоевателей».

A) Первое ополчение    B) Куликовская битва    C) Второе ополчение    D) Ледовое побоище.

1.3. Назовите фамилию государственного и политического деятеля, кто стоял в 1606 г. во главе боярского заговора, который низложил первого самозванца, выдававшего себя за царевича Дмитрия?  
A) Шуйский    B) Трубецкой    C) Адашев    D) Шени

1.4. В каком году на Переяславской раде казацкая старшина и войско присягнули на верность российскому царю?  
A) 1687 г.    B) 1654 г.    C) 1667 г.    D) 1659 г.

1.5. Кто из архитекторов возвел стены и башни Китай-города, построил ряд церквей. Ему же некоторые ученые приписывают авторство церкви Вознесения в селе Коломенском?  
A) Федор Конь    B) Алевиз Фрязин    C) Иван Пересветов    D) Пётрок Малый

Ответ:

1.1.	1.2.	1.3.	1.4.	1.5.
Б	В	А	С	Б

Критерии оценивания: за каждый верный ответ - 2 балла, всего - 10 баллов.

**Задание № 2. Какое из перечисленных понятий (имён, дат, событий) является лишним в данном ряду? Лишнее слово или словосочетание зачеркните. Укажите, по какому принципу образован каждый ряд, то есть кратко поясните, что объединяет события (понятия, имена, даты).**

A) кантеле, курай, гусли, варган, ~~эоэ~~  
 Ответ: на чем передвигались по воде +  
 B) 1497 г., 1550 г., 1581 г., 1597 г., ~~1612 г.~~, 1649 г.  
 Ответ: приводные документа +  
 B) гривна, ~~даж~~: пуло, алтын.  
 Ответ: денежная валюта +  
 Г) Мария Ильинична Мидославская, Елена Васильевна Глинская, ~~Наталья Кириловна Нарышкина~~  
 Ответ: женщины Алексея Михайловича +  
 Критерии оценивания: за каждый верный ответ - 4 балла, всего - 16 баллов.

**Задание № 3. Выберите три правильных ответа на каждый вопрос. Впишите ответы в таблицу.**

3.1. Отметьте последствия великих географических открытий:  
 1) увеличение количества драгоценных металлов в Европе  
 2) быстрый прогресс индейских цивилизаций Нового Света  
 3) истощение месторождений драгоценных металлов в Европе  
 4) развитие медицины  
 5) ускорение процесса развития городов в Европе  
 6) появление огнестрельного оружия

3.2. Какие народы вошли в состав единого Русского государства во второй половине XVI в.?  
 1) коми    4) маришцы  
 2) мордва    5) саамы  
 3) ненцы    6) ханты

3.3. Какие решения были приняты на Стоглавом соборе?  
 1) о введении общерусского почитания святых  
 2) об установлении патриаршества в России  
 3) ограничение роли католической церкви  
 4) об укреплении церковной дисциплины  
 5) об изъятии церковных земель в пользу государства  
 6) о регламентации церковных служб и обрядов

Ответ:

3.1	3.2	3.3
145	245	246

Критерии оценивания: за каждый верный ответ - 1 балл, всего - 9 баллов.

**Задание № 4. Выберите один правильный ответ. Впишите ответы в таблицу.**

4.1. Что означает термин «мягкая рухлядь»?  
 1) участок, отличный от окружающей местности  
 2) название пушнины в XV-XVIII вв. в России, выступающая не только как товар, но и как денежный эквивалент.  
 3) старые, пришедшие в негодность вещи.

4.2. В каком году купцы Строгановы получают от царя грамоту, разрешающую строительство крепостей на реке Тоболе, на территории Сибирского ханства?  
 1) 1570 г.    2) 1572 г.    3) 1569 г.

65

80

4.3. В каком году был издан Наказ Федора Иоанновича о строительстве города в Сургуте?  
 1) 1593 г. 2) 1598 г. 3) 1594 г.

Ответ:  
 4.1. 2 4.2. 3 4.3. 2

Критерии оценивания: за каждый верный ответ - 1 балл, всего - 3 балла.

Задание № 5. Определите хронологический порядок событий. Занесите буквенные обозначения событий в хронологическом порядке в приведенную таблицу.

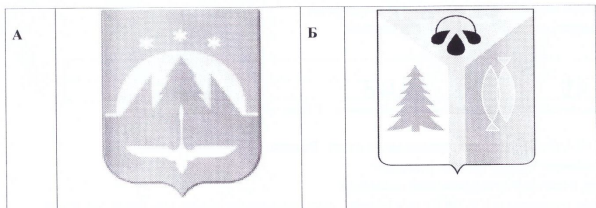
- 5.1. А) свержение В.И. Шуйского Б) бой второго ополчения за Москву  
 1) В) начало польского вторжения 3) Г) осада Болотниковым Москвы  
 4) Д) возникновение Тушинского лагеря 2) Е) восстание Хлопка
- 5.2. А) Поход Василия Пояркова из Якутска на Амур и его плавание по Охотскому морю.  
 Б) Русский казак Михаил Стадухин достиг морем реки Колымы и построил здесь зимовье (Нижнеколымское).  
 В) Путешествие на Камчатку русских казаков Владимира Атласова и Луки Мороско.  
 Г) Семен Ульянович Ремезов составил в Москве «Чертеж всей Сибири».  
 Д) открытие Х. Колумбом Америки  
 Е) Поход русского казака Ерофея Хабарова на Амур и основание им на реке Амур города Албазин.
- 5.3. А) начало Ливонской войны Б) везд Лжедмитрия I в Москву  
 В) образование Первого ополчения Г) Ям-Запольское перемирие  
 Д) введение патриаршества в России Е) битва при Молодях

Ответ:  

	1	2	3	4	5	6
5.1	Б	Е	Г	А	В	Д
5.2	В	Б	А	В	А	Б
5.3	В	Б	А	В	Е	Г


Критерии оценивания: за каждый верный ответ - 1 балл, всего - 18 баллов.

Задание № 6. Внимательно рассмотрите изображения и выполните задания.



Ханты-Мансийск

Ханты-Мансийск: г. Сургут



Ханты-Мансийск

Тюмень

6.1. Запишите названия населенных пунктов, гербы которых представлены на изображениях.

Ответ:  

А	Б	В	Г	Д	Е
	Ханты-Мансийск	Сургут			Тюмень

6.2. Выпишите букву, обозначающую герб населенного пункта, расположенного на реке, название которой в переводе с хантыйского языка означает «Божья река».

Ответ: Б

6.3. Выпишите букву, обозначающую герб населенного пункта, который своим названием обязан геофизику Сургутской нефтеразведочной экспедиции - Виктору Петровичу Федорову.

Ответ: Г

6.4. Выпишите букву, обозначающую герб населенного пункта, именованного в середине XVII в. как «Самарово», но не имеющее никакого отношения к городу Самара.

Ответ: Е

Критерии оценивания: за каждый верный ответ - 1 балл, всего - 9 баллов.

Задание № 7. Если вы согласны с утверждением, напишите «да», если не согласны - «нет». Внесите свои ответы в таблицу.

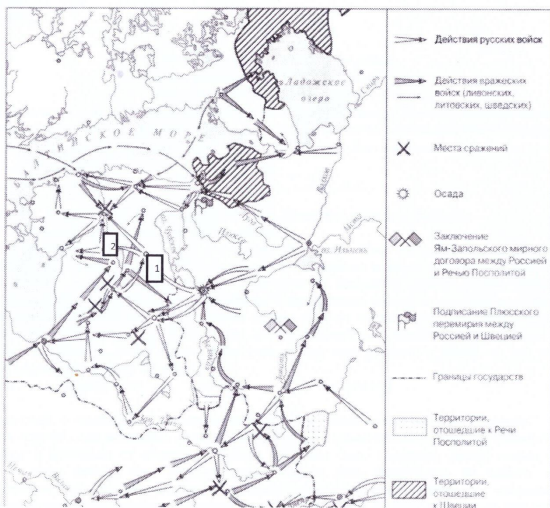
- 7.1. Покровский собор был построен русскими мастерами Барма и Постник.  
 7.2. Одной из черт единого государства, имевшее место в России к середине XVI в., являлся единый хорошо развитый государственный аппарат.  
 7.3. Кормление это система крупное земельное владение без права продажи.  
 7.4. В 1550 г. на Земском соборе был утвержден новый Судебник.  
 7.5. Одной из причин Смутного времени явилась смерть Ивана Грозного.

Ответ:

7.1. нет 7.2. да 7.3. нет 7.4. да 7.5. нет

Критерии оценивания: за каждый верный ответ - 1 балл, всего - 5 баллов.

Задание № 8. Рассмотрите карту и выполните предложенные задания



8.1. Укажите название войны, события которой отражены на карте \_\_\_\_\_ (название войны).

8.2. Укажите монарха, в период правления которого, происходила данная война \_\_\_\_\_ (имя монарха).

8.3. Под цифрой «1» обозначен город, осада которого продолжалась 5 месяцев. Оборону данного города возглавил царь Иван Шуйский \_\_\_\_\_ (название города).

8.4. Под цифрой «2» обозначен город, некогда основанный Ярославом Мудрым, именуемый ныне как Тарту \_\_\_\_\_ (напишите название города).

8.5. Кто возглавлял войска Речи Посполитой, при осаде города, обозначенного под цифрой «1» \_\_\_\_\_ (напишите имя/фамилию короля).

Ответ:

8.1.	Ледовое побоище Суоменская	-
8.2.	Иван Шуйский	-
8.3.	Суоменская	-
8.4.	Ковторог	-
8.5.	Батори	+

Критерии оценивания: за каждый верный ответ - 2 балла, всего - 10 баллов.

Задание № 9. Определите пропущенные в тексте названия, понятия, имена, даты, обозначенные порядковыми номерами. При необходимости при порядковых номерах даются пояснения о характере требуемой вставки. Необходимые вставки впишите под соответствующими номерами в помещённую ниже таблицу.

В 1(год) Иван IV, получивший в народе прозвище 2(укажите прозвище), повелел собрать в Москве представителей духовенства и служилых людей для обсуждения преобразований. Это был первый в истории России 3(название учреждения)- собрание представителей всех русских земель, где обвинил бояр в злоупотреблениях, которые они творили во времена его малолетства, и пообещал в дальнейшем охранять население от произвола бояр и местных властей. В 4(год) на 5(название учреждения) был утвержден новый 6(название документа). В нем был увеличен размер пожлого при переходе крестьян, в 7(название) день, от одного помещика к другому, ужесточились наказания для разбойников, вводились наказания за взятки, ограничивались права наместников. Закончилось формирование системы центральных органов управления 8(название органа), ведавшие определенными государственными делами или территориями. В 9(год) состоялся церковный собор. Сборник документов, которые принял собор, состоял из ста глав, поэтому собор был назван 10 (название). Собор привел к единообразию церковные обряды, разработал правила поведения для духовенства с целью повышения его образовательного и нравственного уровня.

Ответ:

1.	1549	1549	+
2.	Грозный		
3.	Земский собор		+
4.	1551		-
5.	Земский собор		+
6.	Судебник		+
7.	Юрьев день		+
8.	Власти		-
9.	1552		+
10.	Стоглавы		+

Критерии оценивания: за каждый верный ответ - 2 балла, всего - 20 баллов.